



# ACTIVIDADES DE ECUACIONES

1. Descubre el número escondido.

$8 + \square = 10$

$\square + 5 = 10$

$6 + \square = 8$


$\square + 3 = 9$

$10 + \square = 20$

$\square + 0 = 2$

$1 + \square = 7$

$\square + 9 = 11$


















¡Vamos, tú puedes hacerlo!

1. ¿Cuántas mascotas hay en cada caso?

PRIMER GRADO

RAZ. MATEMÁTICO

 <p>tiene 1</p> <p>tiene 3</p> <p><input type="text"/> + <input type="text"/> = <input type="text"/></p>		 <p>tiene 2</p> <p>tiene 3</p> <p><input type="text"/> + <input type="text"/> = <input type="text"/></p>	
 <p>tiene 3</p> <p>tiene 1</p> <p><input type="text"/> + <input type="text"/> = <input type="text"/></p>		 <p>tiene 4</p> <p>tiene 3</p> <p><input type="text"/> + <input type="text"/> = <input type="text"/></p>	
 <p>tiene 1</p> <p>tiene 5</p> <p><input type="text"/> + <input type="text"/> = <input type="text"/></p>		 <p>tiene 3</p> <p>tiene 3</p> <p><input type="text"/> + <input type="text"/> = <input type="text"/></p>	
 <p>tiene 4</p> <p>tiene 1</p> <p><input type="text"/> + <input type="text"/> = <input type="text"/></p>		 <p>tiene 2</p> <p>tiene 0</p> <p><input type="text"/> + <input type="text"/> = <input type="text"/></p>	