





EVALUACIÓN

1.- Observa los dibujos y sigue las indicaciones.

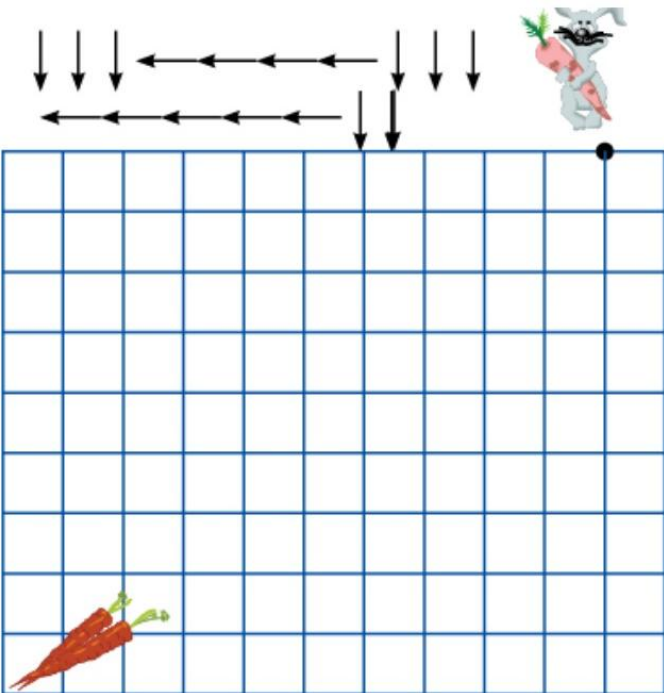
a) Colorea el animal que está entre el pato y el sapo.



b) Marca con un aspa (X) el objeto que está entre la pipa y la silla.



2.- Sigue la dirección de las flechas y descubre el camino:



3.- Cuenta los objetos y realiza las adiciones.

Cuenta los objetos y realiza las adiciones.

 $2 + 3 = \square$	 $4 + 2 = \square$
 $2 + 2 = \square$	 $5 + 4 = \square$
 $3 + 2 = \square$	 $5 + 5 = \square$

4.- Escribe el número anterior y posterior de cada ejercicio.

9

14

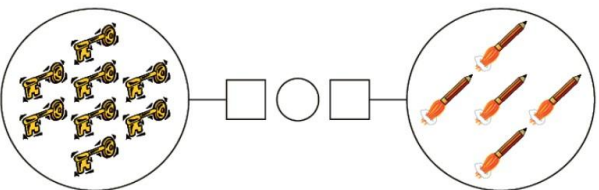
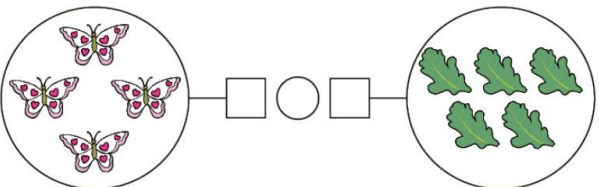
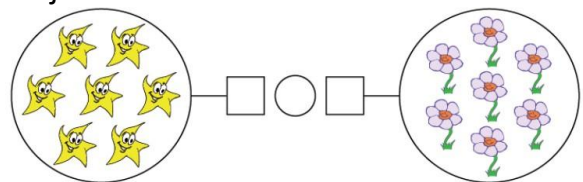
12

17

20

19

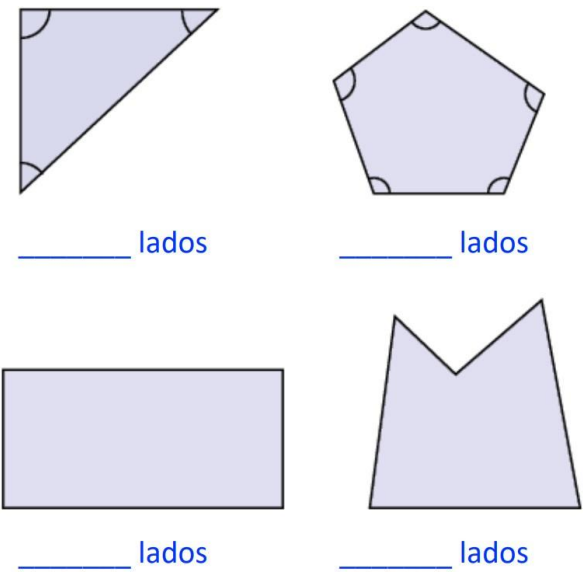
5.- Cuenta y compara los elementos de los conjuntos.



6.- Une las columnas.

diez		$10 + 2$
doce		$6 + 5$
quince		$20 - 10$
catorce		$7 + 7$
once		$10 + 5$

7.- Escribe el número de lados y colorea los vértices.



8.- Ordena los números de forma ascendente y descendente, según se indique.

Ascendente:

21 - 31 - 11 - 71 - 61 - 51 - 20
 () () () () () () ()

Descendente:

44 - 74 - 86 - 68 - 47 - 91 - 19
 () () () () () () ()

9.- Observa bien al colocar los signos.

$77 + 6 - 10$

$45 - 4 + 10 - 2$

$25 + 4 - 5 + 3$

10.- Une cada cantidad con el doble de esta.