



## EVALUACIÓN

1.- Relaciona las columnas con una flecha.  
Recuerda utilizar colores.

a) Características físicas.

Son aquellas relacionadas con nuestra religiosidad y la forma en la que vivimos nuestra religión.

b) Características espirituales.

Son aquellas relacionadas con nuestra inteligencia y capacidad.

c) Características afectivas.

Son aquellas relacionadas con habilidades propias del cuerpo y del crecimiento.

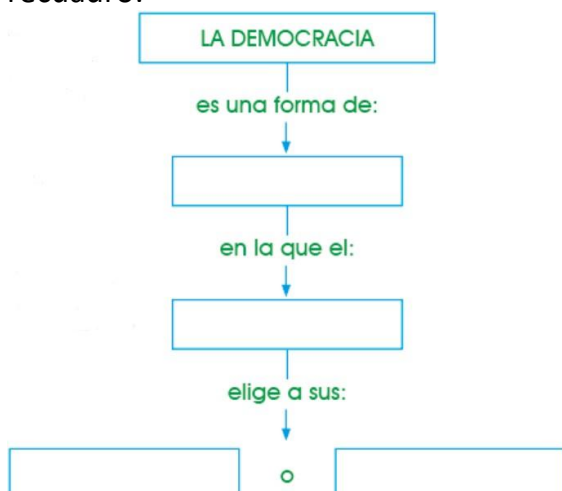
d) Características intelectuales.

Son aquellas relacionadas con la forma de interactuar con las personas.

2.- Coloca dentro del paréntesis una (N) si se trata de un desastre natural o una (I) si se trata de un desastre inducido:

- a. Temblor ( )
- b. Tormenta eléctrica ( )
- c. Guerra ( )
- d. Huaico ( )
- e. Fenómeno del Niño ( )
- f. Incendio ( )
- g. Corto circuito ( )
- h. Aluvión ( )
- i. Alud ( )
- j. Detonación de una bomba ( )

3.- Completa el siguiente esquema utilizando las palabras adecuadas en cada recuadro:



4.- ¿Por qué es importante la constitución política del Perú?

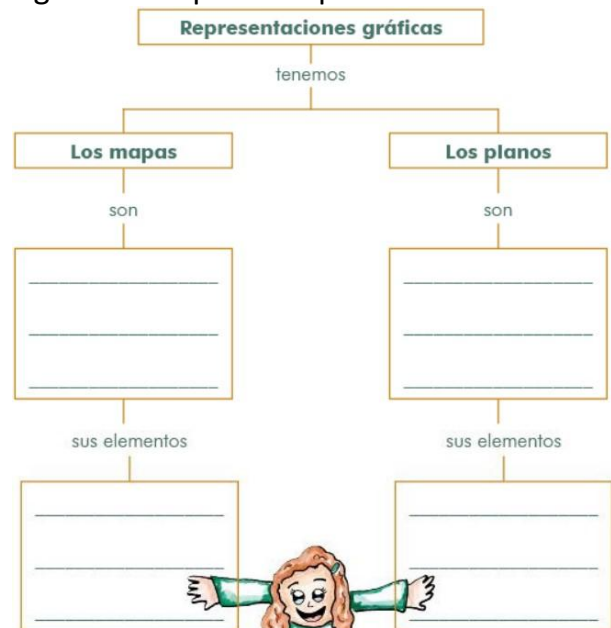
\* Establece un orden en el país.

\* Garantiza el cumplimiento de nuestros \_\_\_\_\_ y \_\_\_\_\_.

\* Es la máxima ley, por tal razón se le considera "\_\_\_\_\_".

\* Organiza el Estado y la forma de gobierno.

5.- Con ayuda de tu maestra, completa el siguiente mapa conceptual:



6.- Relaciona correctamente:

- a) Océano ( ) Se encuentra en el extremo de América, Europa y Asia. En su parte central se encuentra el Polo Norte.
- b) Océano Atlántico ( ) Son grandes masas de agua depositadas en las depresiones existentes entre los continentes.
- c) Océano Pacífico ( ) Es el océano de mayor extensión.
- d) Océano Índico ( ) Es el segundo de mayor extensión. Baña las costas occidentales de Europa y África y las orientales de América.
- e) Océano Glacial Ártico ( ) Baña las costas meridionales de Asia y Australia y las orientales de África.

7.- Después de haber escuchado la explicación de tu maestra, relaciona cada imagen con el fenómeno geográfico que corresponda:



valle



playa



lago





meseta


volcán

glaciar

8.- Identifica a los animales que representan los dibujos de los dioses de Chavín y escribe sus nombres:



9.- Observa la siguiente pieza de orfebrería Chimú y luego, responde con ayuda de tu maestra:



- a. ¿Cómo se llama?  
\_\_\_\_\_
- b. ¿Para qué era utilizado?  
\_\_\_\_\_  
\_\_\_\_\_
- c. ¿De qué materiales esta elaborado?  
\_\_\_\_\_  
\_\_\_\_\_

10.- Según la propiedad y destino de las tierras, estas eran:

- 1. Tierras del \_\_\_\_\_: En beneficio de los sacerdotes y para ofrendas a los dioses.
- 2. Tierras del \_\_\_\_\_: En beneficio del Inca, la nobleza y los altos funcionarios.
- 3. Tierras del \_\_\_\_\_: Eran de las comunidades, distribuidas entre los hatunrunas: un topo por cada hombre y medio topo por cada mujer.